



ESCUELA GENERAL JOSÉ ALEJANDRO BERNALES D-114  
ASIGNATURA: MATEMÁTICA  
TERCERO BÁSICO

## Guía de matemática: Numeración II

**NOMBRE:** ..... **FECHA:** 27 de mayo de 2020

**OBJETIVOS:** OA3 -OA7

- Identificar las unidades y decenas en números del 0 al 1000 representando las cantidades de acuerdo con su valor posicional.
- Comparar y ordenar números del 0 al 1000 de menor a mayor y viceversa.
- Ordenar secuencias según criterios dados.
- Completar secuencias de acuerdo con patrones.

**INSTRUCCIONES:**

- Lee pausadamente cada ítem y sigue la indicación correspondiente.
- Recuerda: si no puedes imprimir, copia solo las respuestas en tu cuaderno. Escribe el número de la pregunta y responde.

**!!!Se responsable, quédate en casa, así cuidas a toda tu familia!!!**

Dibuja la actividad que más te haya llamado la atención esta semana

## VALOR POSICIONAL

2. Pinta del mismo color las nubes que representan el mismo número.

897

$600 + 40 + 5$

$300 + 9$

309

$400 + 70 + 9$

$200 + 80 + 7$

645

531

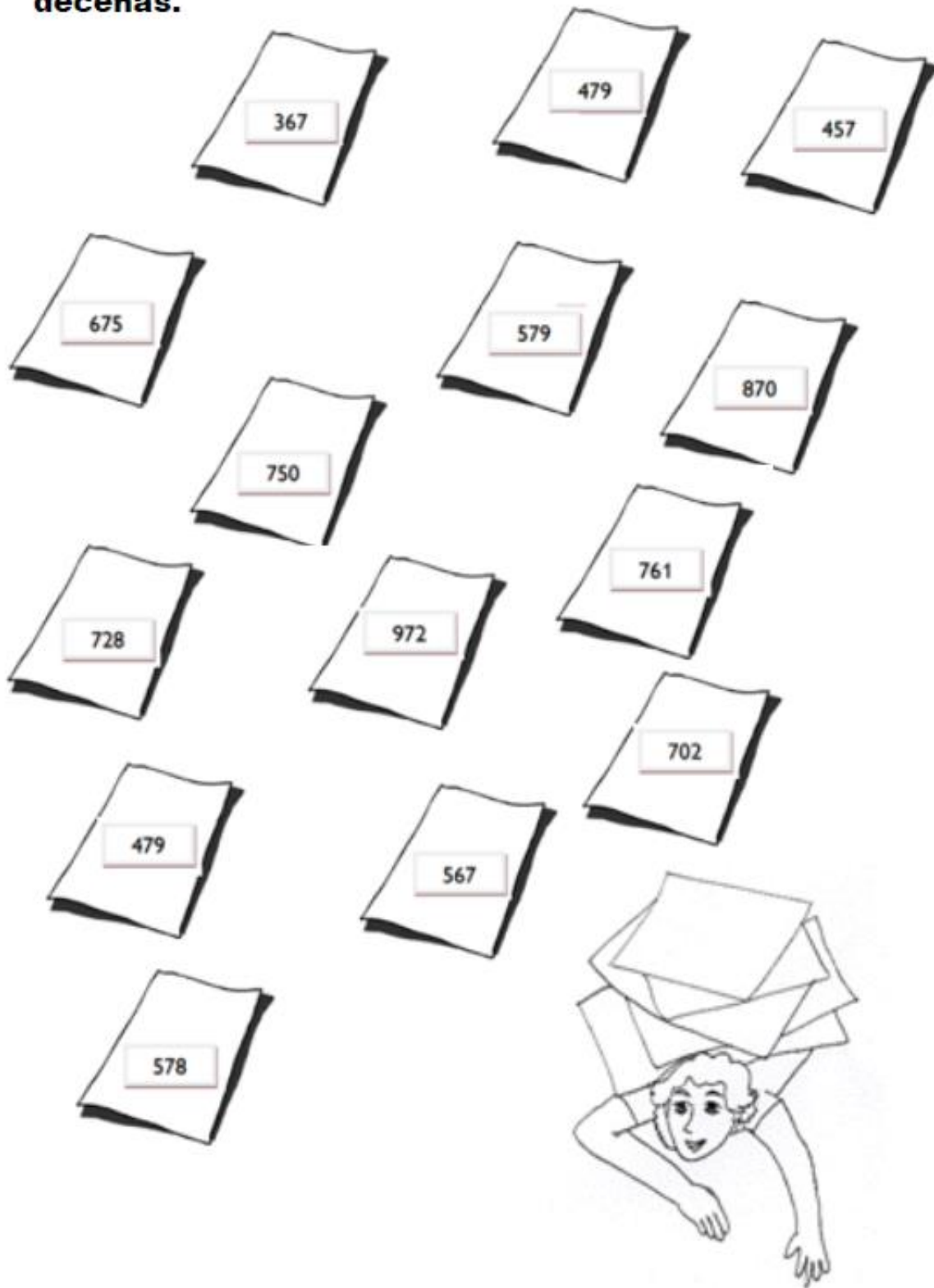
479

$800 + 90 + 7$


$500 + 30 + 1$

287

**3. A Tristán se le cayeron las tarjetas de valor posicional. Pinta los números que tienen un 7 en el lugar de las decenas.**



4. Marca con una x los números en que 5 vale 50.



# Comparando números

## 1. Mayor que, menor que, igual a

~~395 es \_\_\_\_\_ 395~~ ☆

~~970 es \_\_\_\_\_ 975~~ ☆

~~119 es \_\_\_\_\_ 191~~ ☆

~~688 es \_\_\_\_\_ 687~~ ☆


## 2. Pinta los números menores que 154.

68	145	155	236
46	183	153	36
254	200	47	25

**3. Pinta los números mayores que 578.**




**4. Completa con > , < o =**



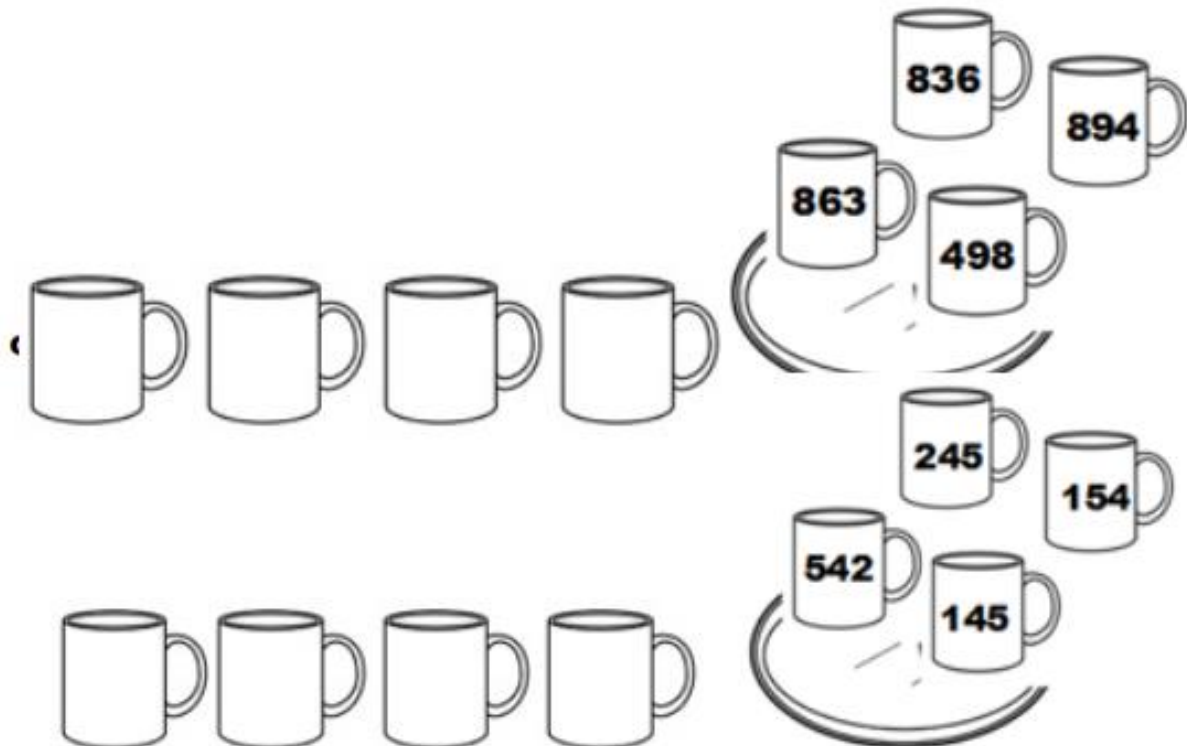
## Orden y secuencias

1. Ordena los números, comienza por el menor.

a)



b) Ordena los números, comienza por el número mayor.



**2. Completa las secuencias con los números que faltan.**

60	59	58	57	56	
----	----	----	----	----	--

50	100	150			
----	-----	-----	--	--	--

143	243	343			
-----	-----	-----	--	--	--

327		329		331	
-----	--	-----	--	-----	--

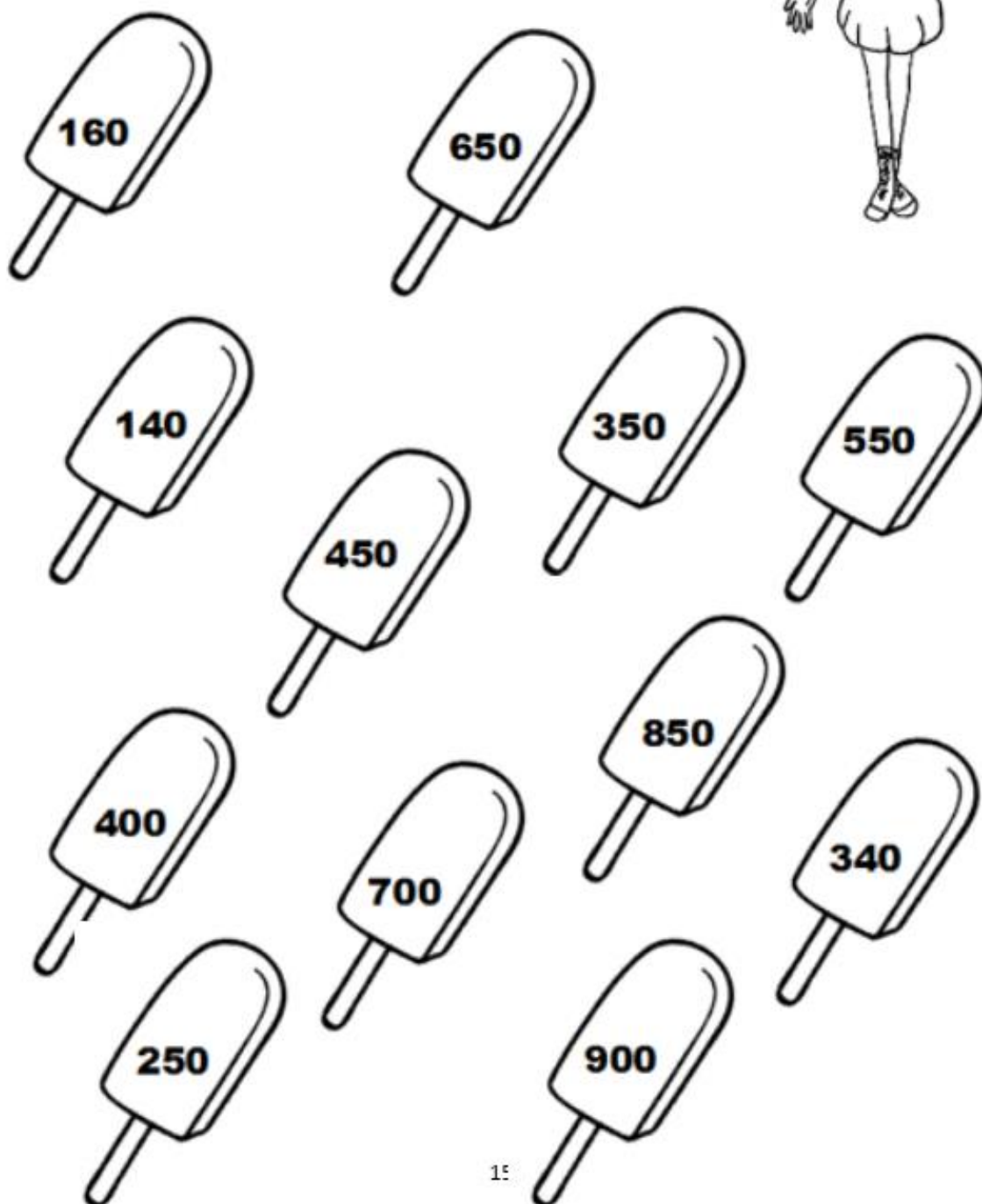
805		825	835		
-----	--	-----	-----	--	--

	624	524	424		
--	-----	-----	-----	--	--




### 3. Los helados de Alen.

Recorta, ordena y pega en tu  
cuaderno los helados de mayor a menor.




4. Recorta, ordena y pega en tu cuaderno los helados de menor a mayor.


a)



b)



c)



## **Reflexiona**

Evalúa tu trabajo marcando con una **X** aquellas frases que te identifiquen.

	Me esforcé y traté de hacer lo mejor que pude.
	Lo hice bien, pero podría esforzarme más.
	Tal vez me faltó compromiso con las actividades realizadas.