



Guía n°2

Actividad 1: Las plantas


Nombre: _____ Curso: 4toA Fecha: miércoles 20/05/2020

OA: 3

OC: Identificar las etapas del ciclo de vida de una planta

Las plantas

Ordena en secuencia las siguientes láminas, escribiendo los números del 1 al 6 en los ○:



¿En cuál de los siguientes maceteros germinarán las semillas? Píntalo y tacha con una X los otros. Comenta con tus compañeros.





Esc. José Alejandro Bernal
Prof. Isela Arancibia - Alejandra Domínguez
Codocente: Gabriela Bustamante
Ciencias Naturales- 4to A /2020

Actividad 2: Ciclo de vida de una planta con flor







Nombre: _____ Curso: 4toA Fecha: miércoles 20/05/2020

OA: 2-3

OC: Identificar las etapas del ciclo de vida de una planta con flor

Ciclo de vida de una planta con flor

Observa y describe lo que sucede en cada etapa:

| | | |
|---|---|--|
|  |  |  |
| _____ _____ _____ | _____ _____ _____ | _____ _____ _____ |
|  |  |  |
| _____ _____ _____ | _____ _____ _____ | _____ _____ _____ |



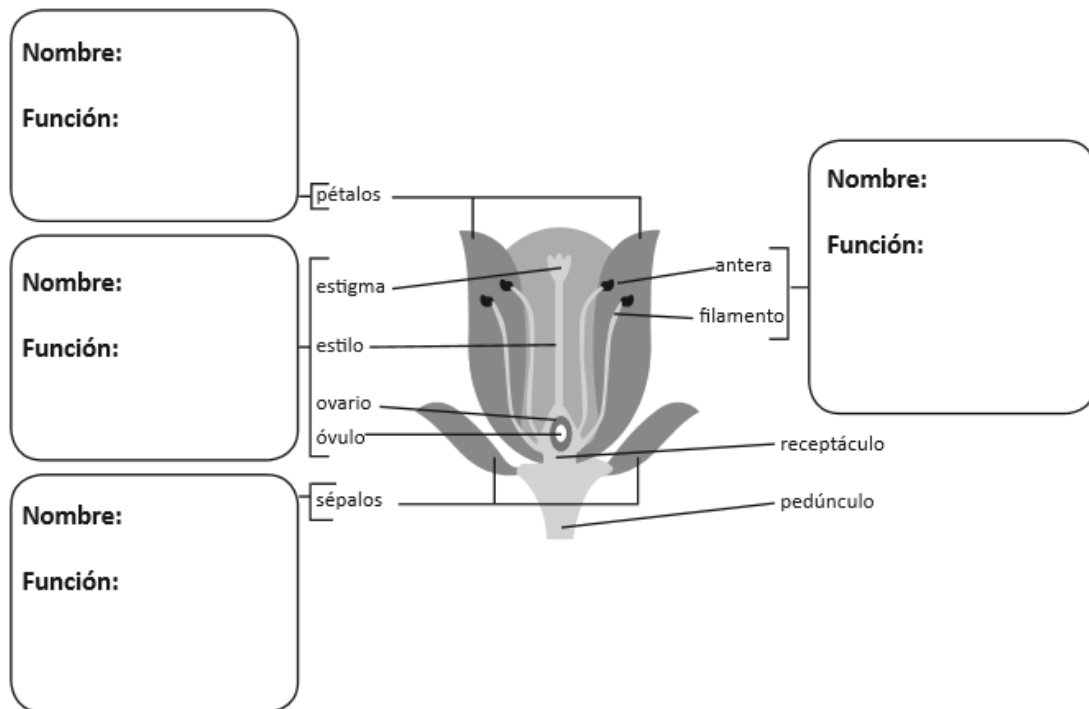
Actividad 3: Partes de la flor

Nombre: _____ Curso: 4toA Fecha: miércoles 20/05/2020

OA: 3

OC: Identificar nombre y función de las partes de una flor

Indaga y escribe el nombre y la función de cada una de las partes de la flor, según donde corresponda:



Responde:

¿Cuáles son las partes protectoras de la flor?

¿Cuáles son los órganos reproductores de la flor?

¿Cuál es el órgano masculino?

¿Cuál es el órgano femenino?
