



Escuela General José Alejandro Bernal D- 114
Asignatura: Matemáticas
Primero Básico

| | | |
|---------|--------|----------------------------|
| Nombre: | Curso: | Fecha: 09 de junio de 2020 |
|---------|--------|----------------------------|


OA1: Contar números naturales del 0 al 10 de 1 en 1, de 2 en 2, de 5 en 5 empezando por cualquier número menor.

OA4: Comparar y ordenar números del 0 al 10 de menor a mayor.

ACTIVIDAD N° 1

Objetivo clase: Escribir correctamente secuencias de números naturales del 0 al 10.

- 1) Completa los espacios contando los cubos y escribiendo el número que corresponde. Observa que en cada torre se agregan 2 cubos, por lo tanto contamos de 2 en 2.



AUTOEVALUACION
Pinta según tu desempeño



Logrado

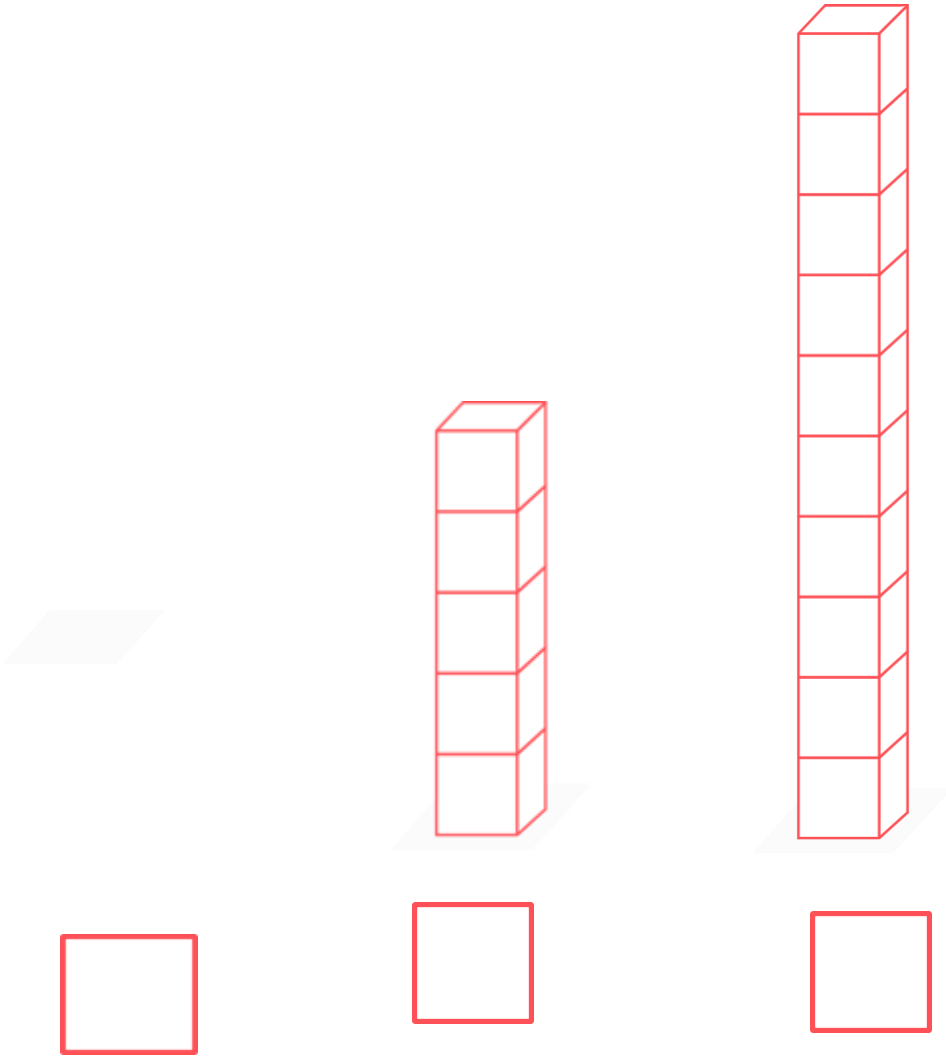


Debo Mejorar



Presente Problemas

2) Completa los espacios contando los cubos y escribiendo el número que corresponde.
Observa que en cada torre se agregan 5 cubos, por lo tanto **contamos de 5 en 5.**



AUTOEVALUACION
Pinta según tu desempeño



Logrado




Debo Mejorar



Presente Problemas

3.- Une Con una línea de color cada mono con su plátano y luego responde.

Une cada monito con un plátano.



¿Hay más monos o plátanos? _____

¿Cómo lo descubriste? Coméntalo con un adulto.

4.- Une Con una línea de color cada cono con su helado y luego responde.

Une cada bolita de helado con un cono.



¿ Hay más bolitas o conos? _____

¿Cómo lo descubriste? Coméntalo con un adulto

