



Esc. José Alejandro Bernal
Prof. Isela Arancibia - Alejandra Domínguez
Codocente: Gabriela Bustamante
Ciencias Naturales- 4to A /2020

Guía n°4

Actividad 1: Cadenas alimentarias

Nombre: _____ Curso: 4toA Fecha: 10/06/2020

OA: 3

OC: Identificar diversos organismos de una cadena alimentaria

RECUERDA:

Los PRODUCTORES: son los seres vivos que producen su propio alimento, son todo tipo de plantas o vegetales , ej: pasto, frutas, árboles, etc..

Los CONSUMIDORES: son los animales que se alimentan de otros seres vivos, ya sean animales o plantas.

Los ANIMALES HERBIVOROS: son animales que se alimentan solo de vegetales o hierbas, ej: conejo, gusano, mariposa, etc..

Los ANIMALES CARNIVOROS: son animales que se alimentan de otros animales, ej: puma, zorro, lobo, etc...

Los ANIMALES OMNIVOROS: son animales que se alimentan tanto de animales y de plantas o vegetales, ej: cerdo, perro, cisne, oso, chimpancé, etc...

Los ANIMALES DEPREDADORES: son los animales carnívoros y omnívoros, que cazan a otros animales, ej: puma, oso, tigre, etc..

Los DESCOMPONEDORES: son bacterias y hongos encargados de consumir los últimos restos de productores o consumidores muertos.

Las PRESAS: son los animales cazados por los depredadores.

Una **cadena alimentaria o trófica**, muestra como los seres vivos adquieren energía alimentándose de otros seres vivos (pueden ser plantas o animales de los que se alimentan).

Los **únicos que elaboran su propio alimento** sin necesidad de alimentarse de otros animales son **las plantas o productores**.



Observa las cadenas y responde:



¿Cuál organismo es el productor? _____

¿Cuáles organismos son presas? _____

¿Cuáles organismos son depredadores? _____







¿Cuál organismo es el productor? _____

¿Cuáles organismos son presas? _____

¿Cuáles organismos son depredadores? _____

Observa los siguientes organismos. Forma una cadena alimentaria, escribiendo en las líneas, sus letras en el orden correcto:

a. 	b. 	c. 	d. 
1. _____	2. _____	3. _____	4. _____



Autoevaluemos nuestro aprendizaje: (Reflexionemos)

1) ¿Qué aprendiste en esta guía?

2) ¿Qué estrategia realizaste para resolver la tarea?

3) ¿Cómo te sentiste al lograr terminar estas actividades?

4) ¿Qué nota te colocas por tu trabajo? _____

SOLUCIONARIO:

1° imagen de cadena alimentaria

- * La planta.
- * Gusano – rana - culebra.
- * Rana - culebra - lechuza.

2° imagen de cadena alimentaria.

- * Zanahoria.
- * Conejo – zorro.
- * Zorro – águila.

3° imagen de cadena alimentaria.

1.- d

2.- b

3.- a

4.- c



Esc. José Alejandro Bernales
Prof. Isela Arancibia -Alejandra Domínguez
Codocente: Gabriela Bustamante
Ciencias Naturales- 4to A /2020