



Escuela General José Alejandro Bernales D- 114

Asignatura: Matemáticas

Primero Básico

GUIA DE SINTESIS

MIÉRCOLES 08 JULIO 2020

Nombre:	Curso:	Fecha: 08 de julio de 2020
---------	--------	----------------------------

OBJETIVOS DE APRENDIZAJE:

OA3: Leer números del 0 al 10 y representarlos de manera concreta, pictórica y simbólica.













OA1: Contar números naturales del 0 al 10 de 1 en 1, de 2 en 2, de 5 en 5 empezando por cualquier número menor.

OA4: Comparar y ordenar números del 0 al 10 de menor a mayor.

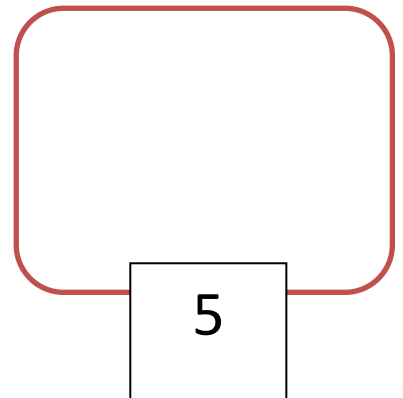
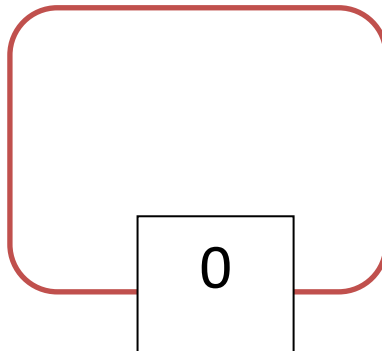
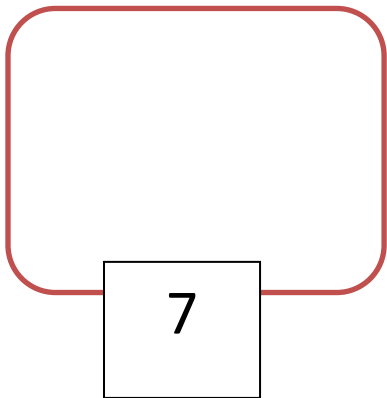
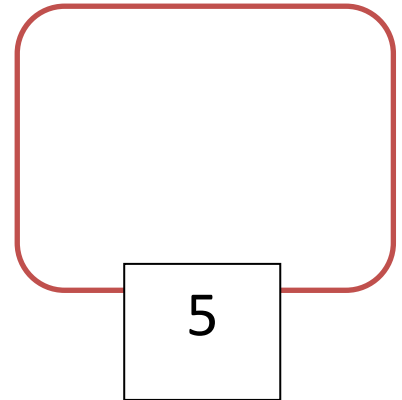
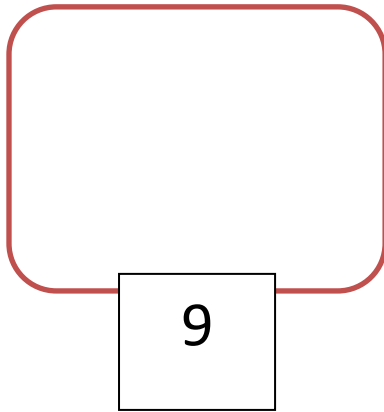
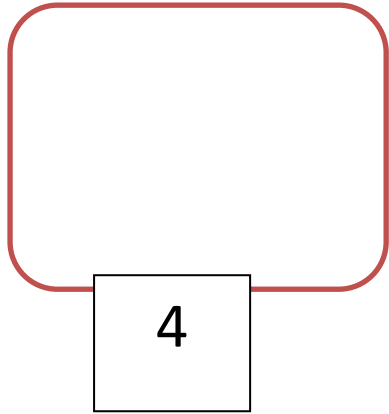
ACTIVIDAD N° 1 :

Objetivo de la clase: Leer y escribir representaciones pictóricas de números.

A) Cuenta y escribe el número que corresponda dentro del rectángulo

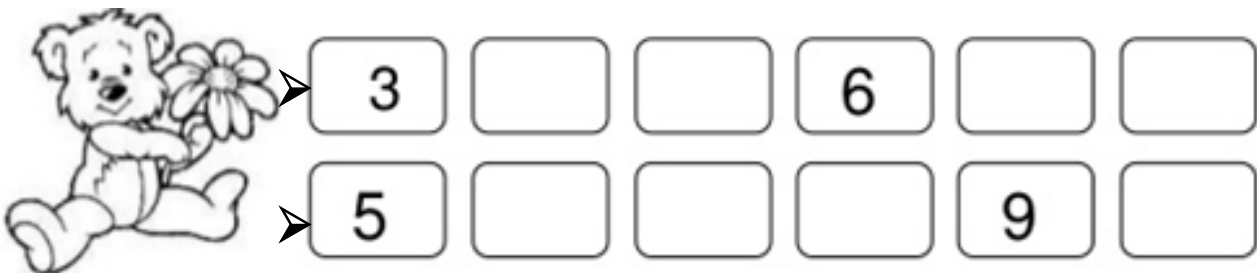
B) Representa cantidades en cada conjunto, dibujando elementos según el número escrito en el cuadrado.













ACTIVIDAD N° 2 :






Objetivo de la clase: Leer y escribir secuencia de números de 1 en 1, de 2 en 2 y de 5 en 5.




A) Completa escribiendo correctamente las secuencias de números naturales



B) Cuenta la cantidad de elementos de cada recuadro y escribe el número que corresponde:

C) Escribe las siguientes secuencias numéricas:

➤ **De 1 en 1**

1										
----------	--	--	--	--	--	--	--	--	--	--

➤ **2 en 2**

2				
----------	--	--	--	--

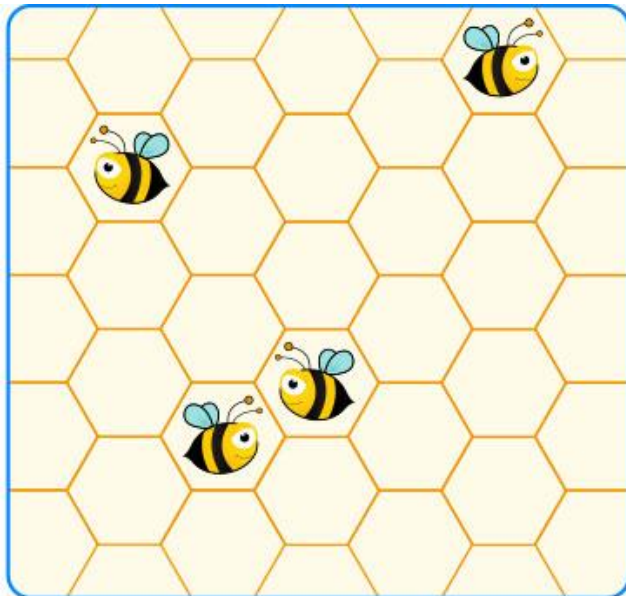
➤ **5 en 5**

--	--

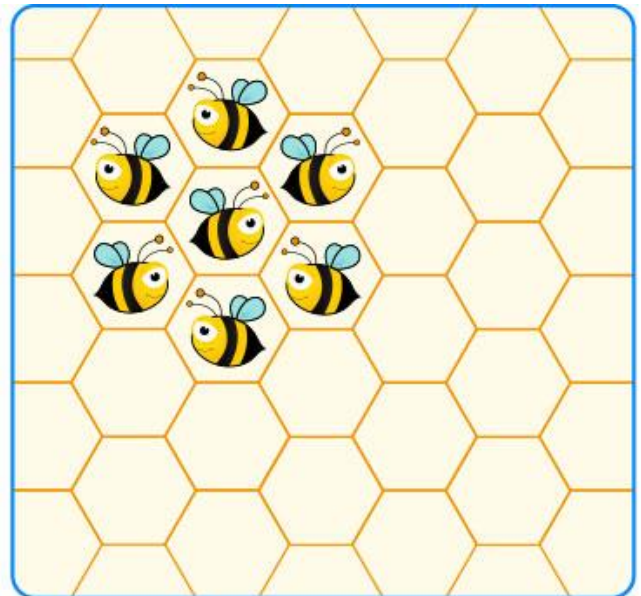
ACTIVIDAD N° 3 :

Objetivo de la clase: Comparar cantidades usando expresiones mayor y menor.

Observa las abejas que están en las colmenas siguientes:



Colmena 1



Colmena 2

Responde las siguientes preguntas:

A) ¿Cuántas abejas agregarían en la colmena 1 para que en ella quede una cantidad mayor de abejas que en la colmena ?

B) ¿ Qué colmena tiene la mayor cantidad de abejas?

C) ¿ Qué colmena tiene la menor cantidad de abejas?



Evalúo mi trabajo marcando con una "X" !

Indicadores	Logrado	Casi logrado	No lo logré
Actividad 1 <i>Leo, escribo y represento cantidades del 0 al 10</i>			
Actividad 2 <i>Conté y escribí números de 1 en 1 , de 2 en 2 y de 5 en 5.</i>			
Actividad 3 <i>Identifico cuando un conjunto tiene una mayor cantidad de elementos</i>			
<i>Identifico cuando un conjunto tiene una menor cantidad de elementos.</i>			



