



ESCUELA GENERAL JOSÉ ALEJANDRO BERNALES D-114
ASIGNATURA: MATEMÁTICA
TERCERO BÁSICO

Guía de matemática: Operatoria

NOMBRE: **FECHA:** 07 de julio de 2020

OBJETIVOS: OA10

- Demostrar que comprenden la relación entre la adición y la sustracción como operaciones
- Resolver ejercicios de adicción con material o pictórico.

INSTRUCCIONES:

- Lee pausadamente cada ítem y sigue la indicación correspondiente.
- Recuerda: si no puedes imprimir, copia solo las respuestas en tu cuaderno. Escribe el número de la pregunta y responde.


!!!Se responsable, quédate en casa, así cuidas a toda tu familia!!!


Dibuja la actividad que más te haya llamado la atención esta semana


Adición


Suma simple


1. Resuelve las adiciones.


$$\begin{array}{r} 557 \\ + 211 \\ \hline \end{array}$$



$$\begin{array}{r} 448 \\ + 541 \\ \hline \end{array}$$



$$\begin{array}{r} 635 \\ + 334 \\ \hline \end{array}$$



$$\begin{array}{r} 717 \\ + 272 \\ \hline \end{array}$$



$$\begin{array}{r} 824 \\ + 121 \\ \hline \end{array}$$



$$\begin{array}{r} 438 \\ + 141 \\ \hline \end{array}$$



$$\begin{array}{r} 722 \\ + 276 \\ \hline \end{array}$$



$$\begin{array}{r} 372 \\ + 326 \\ \hline \end{array}$$



$$\begin{array}{r} 362 \\ + 337 \\ \hline \end{array}$$



$$\begin{array}{r} 265 \\ + 231 \\ \hline \end{array}$$



$$\begin{array}{r} 257 \\ + 621 \\ \hline \end{array}$$


$$\begin{array}{r} 627 \\ + 352 \\ \hline \end{array}$$


$$\begin{array}{r} 245 \\ + 511 \\ \hline \end{array}$$


$$\begin{array}{r} 854 \\ + 124 \\ \hline \end{array}$$


$$\begin{array}{r} 288 \\ + 611 \\ \hline \end{array}$$


$$\begin{array}{r} 573 \\ + 224 \\ \hline \end{array}$$


2. Ayuda a León con las adiciones.

$$\begin{array}{r} 871 \\ + 115 \\ \hline \end{array}$$

$$\begin{array}{r} 681 \\ + 312 \\ \hline \end{array}$$



$$\begin{array}{r} 158 \\ + 331 \\ \hline \end{array}$$

$$\begin{array}{r} 648 \\ + 311 \\ \hline \end{array}$$

$$\begin{array}{r} 448 \\ + 441 \\ \hline \end{array}$$

$$\begin{array}{r} 448 \\ + 221 \\ \hline \end{array}$$

$$\begin{array}{r} 235 \\ + 133 \\ \hline \end{array}$$

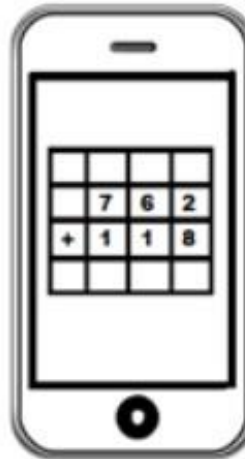
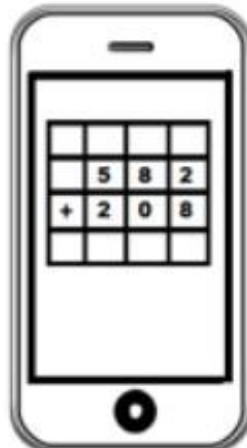
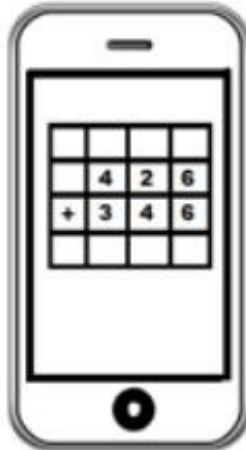

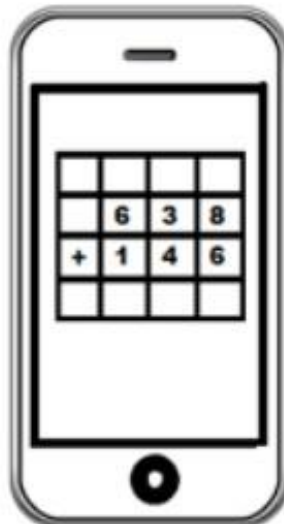
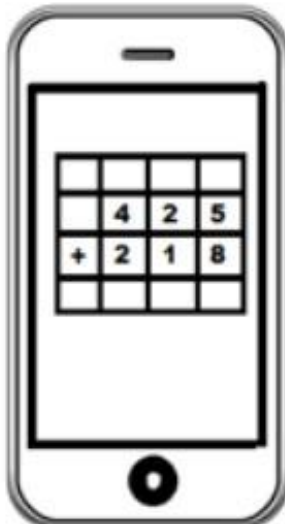
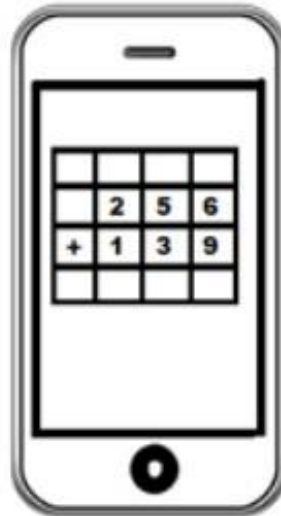
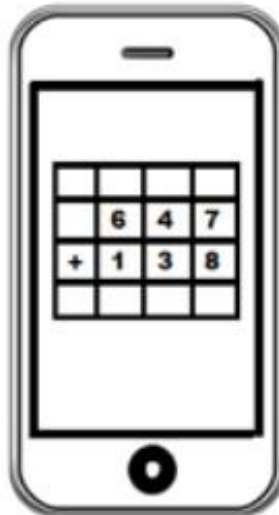
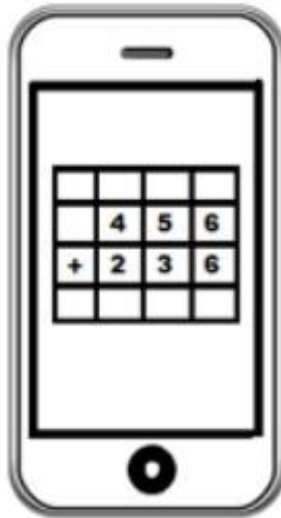
$$\begin{array}{r} 848 \\ + 131 \\ \hline \end{array}$$

$$\begin{array}{r} 788 \\ + 111 \\ \hline \end{array}$$

$$\begin{array}{r} 221 \\ + 253 \\ \hline \end{array}$$

Adiciones llevando en las unidades

1. Resuelve las siguientes adiciones



2. Resuelve las siguientes sumas.



Reflexiona

Evalúa tu trabajo marcando con una **X** aquellas frases que te identifiquen.

	Me esforcé y traté de hacer lo mejor que pude.
	Lo hice bien, pero podría esforzarme más.
	Tal vez me faltó compromiso con las actividades realizadas.